



Како се менуваат сенките во текот на денот? 04.03.2015

1. На цртежот обележи ги со X сенките кои не се поставени правилно.




2. Нацртај ги сенките на дрвото зависно од поставеноста на сонцето. Внимавај на позицијата и должината на сенката!




- правилно ја определува сенката зависно од сонцето
- го користи искуството и едноставни извори на информации

Како се менуваат сенките во текот на денот? 04.03.2015

1. На цртежот обележи ги со X сенките кои не се поставени правилно.



2. Нацртај ги сенките на дрвото зависно од поставеноста на сонцето. Внимавај на позицијата и должината на сенката!



- правилно ја определува сенката зависно од сонцето
- го користи искуството и едноставни извори на информации